

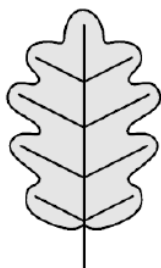
Test si **vytiskni**, modrou propiskou **vyplň**, **podepiš** a nejpozději do 27.3.2020 do 11.00 **odešli** jako přílohu na e-mail: hajnabiologie@seznam.cz (do předmětu mailu uveď třídu a celé jméno- *např: Sekunda B- Daniel Káně*)


1.) Co jsou to listeny?


2.) Jakého původu je květ (květní obaly)?

3.) K obrázkům napiš tvary listů.









4.) K obrázkům napiš postavení listů na stonku.





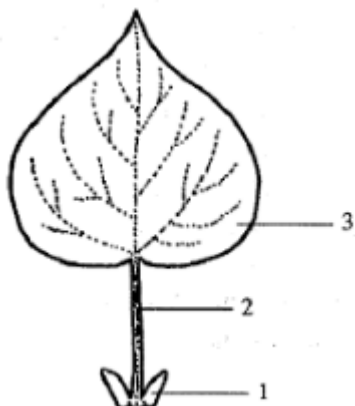


5.) K obrázkům napiš typ žilnatiny.





6.) Popiš části listu.



7.) Uveď alespoň dvě funkce listu.

8.) Nakresli a popiš průduch. Uveď také funkci průduchu.
funkce: _____